

این فایل فقط برای مشاهده می باشد . برای خرید فایل ورد و قابل ویرایش این پروژه آماری با قیمت

فقط دو هزار تومان به سایت علمی و پژوهشی آسمان مراجعه کنید . www.asebankafinet.ir

موضوع :

پروژه آمار اثبات فرضیه علاقه دختران به تحصیل بیشتر از پسران می باشد

www.asebankafinet.ir

فهرست

۴	مقدمه:
۵	بیان مسئله و ضرورت تحقیق:
۵	روشهای اجرا: جمع آوری داده‌ها:
۶	تجزیه و تحلیل داده‌ها:
۶	ارزیابی مشکلات:
۶	-توصیف نمودارهای به دست آمده از سؤال یک:
۷	نتیجه گیری:
۷	- توصیف نمودارهای بدست آمده از سؤال دو:
۷	- توصیف نمودارهای بدست آمده از سؤال سه:
۷	نتیجه گیری:
۷	- توصیف نمودارهای بدست آمده از سؤال چهار:
۸	نتیجه گیری:
۸	- توصیف نمودارهای به دست آمده از سؤال پنج:
۸	- توصیف نمودارهای بدست آمده از سؤال شش:
۸	- توصیف نمودارهای بدست آمده از سؤال هفت:
۹	- توصیف نمودارهای به دست آمده از سؤال هشت:
۹	- توصیف نمودارهای به دست آمده از سؤال نه:
۱۰	- توصیف نمودارهای به دست آمده از سؤال ده:
۱۰	جدول فراوانی جوابهای پسران
۱۱	جدول فراوانی جوابهای دختران
۱۲	جوابهای پسران
۱۲	جوابهای دختران
۱۲	رسم نمودارهای چند بر فراوانی: (هر نمودار مربوط به یک سوال می باشد).
۱۳	جدول فراوانی مربوط به سوال ۲:
۱۳	جدول فراوانی جوابهای پسران
۱۳	جدول فراوانی جوابهای دختران
۱۳	جدول فراوانی مربوط به سوال ۳:
۱۴	جدول فراوانی جوابهای پسران
۱۴	جدول فراوانی جوابهای دختران
۱۵	جدول فراوانی و نمودارهای مربوط به سوال ۴:

این فایل فقط برای مشاهده می باشد. برای خرید فایل ورد و قابل ویرایش این پروژه آماری با قیمت

فقط دو هزار تومان به سایت علمی و پژوهشی آسمان مراجعه کنید. www.asebankafinet.ir

- جدول فراوانی جوابهای پسران ۱۵
- جدول فراوانی جوابهای دختران ۱۵
- جداول فراوانی و نمودارهای مربوط به سوال ۵: ۱۶
- جدول فراوانی جوابهای پسران ۱۶
- جدول فراوانی جوابهای دختران ۱۶
- جداول فراوانی و نمودارهای مربوط به سوال شش ۶: ۱۷
- جدول فراوانی جوابهای پسران ۱۷
- جدول فراوانی جوابهای دختران ۱۷
- جداول فراوانی و نمودارهای مربوط به سوال ۷: ۱۷
- جدول فراوانی جوابهای پسران ۱۸
- جدول فراوانی جوابهای دختران ۱۸
- جداول فراوانی و نمودارهای سوال هشت ۸: ۱۹
- جدول فراوانی جوابهای پسران ۱۹
- جدول فراوانی جوابهای دختران ۱۹
- جدول فراوانی نمودارهای سوال ۹: ۲۰
- جدول فراوانی جوابهای پسران ۲۰
- جدول فراوانی جوابهای دختران ۲۰
- جدول فراوانی و نمودارهای سوال ده ۱۰: ۲۱
- جدول فراوانی جوابهای پسران ۲۱
- جدول فراوانی جوابهای دختران ۲۲

این فایل فقط برای مشاهده می باشد. برای خرید فایل ورد و قابل ویرایش این پروژه آماری با قیمت

فقط دو هزار تومان به سایت علمی و پژوهشی آسمان مراجعه کنید. www.asebankafinet.ir

مقدمه:

تعلیم و تربیت آدمی کاری پراچ و در عین حال وقت گیر است و نتایج قطعی و نهایی آن نسبتاً دیر آشکار می شود و آدمیت انسان به چگونگی تربیتش بستگی دارد. موفقیت و به هدف رسیدن برای هر انسانی بهترین و مهمترین مسئله ای است که در زندگی وی حادث می شود و پیشرفت او نیز بستگی به تلاش و کوشش وی دارد. اگر در شرایط مناسب پرورش یابد به خیل نیکان می پیوندد و اگر تربیت وی مورد غفلت واقع شود چه بسا که از حد حیوان نیز فروتر رود.

مفهوم کلی آموزش و پرورش فراهم نمودن زمینه ها و عوامل مناسب و مساعد برای به فعالیت رساندن و شکوفا نمودن همه استعداد های بالقوه انسان و حرکت تکاملی او بسوی هدف مطلوب بوسیله برنامه سنجیده و حساب شده است. و در این زمینه جنسیت افراد (دختر یا پسر بودن) هیچ تفاوتی ندارد. چرا که در پهنه خلقت خداوند زن و مرد را یکسان آفریده و هیچ کس بر هیچ کس برتر نیست مگر به تقوی از نظر استعداد نیز دختران و پسران در یک سطح خلق شده اند و تفاوت میان آنها از نظر پیشرفت های گوناگون علمی اجتماعی، اقتصادی، فرهنگی و ... بر اساس تلاش و کوشش های هر دسته می باشد.

بر این اساس دانستن آماری از توانایی ها و استعداد های دختران و پسران و اینکه در هر جامعه ای گرایش دختران به چه دروس و یا علمی بیشتر و توانایی و استعداد آنها در چه زمینه ای بیشتر است و یا پسران بیشتر علاقه مند به چه کارها و تخصص هایی هستند می تواند کمک بسیار زیادی برای توسعه و رشد جامعه دارد و مدرسه و نظام آموزش و پرورش برای نیل به مقصد بزرگ یکی از وسایل به شمار می رود.

این فایل فقط برای مشاهده می باشد. برای خرید فایل ورد و قابل ویرایش این پروژه آماری با قیمت

فقط دو هزار تومان به سایت علمی و پژوهشی آسمان مراجعه کنید. www.asebankafinet.ir

بیان مسئله و ضرورت تحقیق:

ما در کشوری به سر می بریم که برای نیل به استقلال و پیشرفت همه جانبه در زمینه های فردی و اجتماعی، اقتصادی، علمی و فرهنگی به شخصیت های رشد یافته و دلهای بیدار و مغزهای اندیشمند و دستهای ماهر و توانا نیازمند است. و این جز از طریق دانستن آمارهای دقیق و در دست داشتن میزان علاقه دختران و پسران جوان به دروس و مطالعه و تحصیل می باشد. از این جهت بر آن شدیم که موضوع تحقیق خود را میزان علاقه دختران و پسران جوان به تحصیل انتخاب کرده و پروژه را با بیان فرض علاقه دختران به تحصیل بیشتر از پسران می باشد مورد بررسی قرار دهیم.

روشهای اجرا: جمع آوری داده ها

به دلیل مشکلات فراوان پرسشنامه و مصاحبه معمولی ترین ابزاری هستند که در امر آمار و تحقیق می توان از آن ها استفاده کرد. برای تهیه باید فهرست کلیه هدفهای پژوهشی که پرسشنامه به خاطر آنها اجرا می شود مهیا کرد و سپس برای هر هدف سئوالاتی تهیه و پرسشنامه تنظیم شود. که در این تحقیق حاضر برای اثبات فرضیه علاقه دختران به تحصیل بیشتر از پسران می باشد پرسشنامه ای با ۱۰ سئوال طرح شده است. این پرسشنامه بین ۲۵ دختر در سطح دبیرستان و ۲۵ پسر نیز در همین سطح توزیع شده است. پرسشنامه پسران در یکی از دبیرستان های نمونه ها بصورت تصادفی انتخاب و توزیع شد. پرسشنامه دختران نیز به همین طریق توزیع و سپس جمع آوری گردید.

این فایل فقط برای مشاهده می باشد. برای خرید فایل ورد و قابل ویرایش این پروژه آماری با قیمت

فقط دو هزار تومان به سایت علمی و پژوهشی آسمان مراجعه کنید. www.asebankafinet.ir

تجزیه و تحلیل داده‌ها:

در این قسمت از دو بخش محاسبات و نمودارها. ابتدا جدول فراوانی برای هر یک از سئوالات پرسشنامه نمودار میله‌ای برای هر یک از سئوالات، نمودار چندبر فراوانی برای هر سئوال، تجزیه و تحلیل و نتیجه‌گیری برای هر سئوال انجام شده است. (در نمودارها دختران مشکی و پسران آبی) رنگ نمودار.

ارزیابی مشکلات:

در انجام این تحقیق آماری متأسفانه با مشکلاتی رو به رو بودیم از جمله برای توزیع پرسشنامه‌ها در مدارس به ما اجازه انجام چنین کاری داده نمی‌شد لذا مجبور شدیم از خود دانش‌آموزان و بطور مخفی کمک گرفته، در نتیجه موفق به توضیح و تشریح مسئله برای دانش‌آموزان نبودیم. دوم اینکه متأسفانه به دلیل اینکه امر تحقیق در هر موردی در کشور ما هنوز تازه می‌باشد خیلی از دانش‌آموزان موضوع را جدی نگرفته و پاسخ‌های دقیق نمی‌دهند. در ضمن به دلایل محدودیت‌های مالی و ... از تعداد کمی پرسشنامه (۵۰ عدد) استفاده شده که نمونه کوچکی می‌باشد و برای جواب دقیق گرفتن نمی‌تواند کافی باشد.

-توصیف نمودارهای به دست آمده از سئوال یک:

الف) با توجه به نمودارها پسران علاقه بیشتری نسبت به کسب درآمد از طریق تحصیلات نسبت به دختران دارند.

ب) با توجه به نمودارها در حد بیشتری از پسران نسبت به دختران انگیزه تحصیل را علاقه می‌دانند.

ج) با توجه به نمودارها انگیزه دختران از تحصیل به میزان چشمگیری کسب موقعیت اجتماعی است و درصد کمتری از پسران به این امر توجه دارند.

این فایل فقط برای مشاهده می باشد. برای خرید فایل ورد و قابل ویرایش این پروژه آماری با قیمت

فقط دو هزار تومان به سایت علمی و پژوهشی آسمان مراجعه کنید. www.asebankafinet.ir

نتیجه گیری:

بطور کلی با مقایسه سه نمودار فوق درصد بیشتری از پسران انگیزه تحصیل را کسب درآمد و دختران کسب موقعیت اجتماعی می دانند.

- توصیف نمودارهای بدست آمده از سؤال دو:

الف) با توجه به نمودارها دختران بیشتر از پسران تحصیل را ارزش محسوب می کنند.

ب) در نمودارهای این قسمت هم ارزش محسوب نشدن تحصیل بیشتر متعلق به پسران است.

نتیجه گیری:

بطور کلی با مقایسه ۳ نمودار فوق در هر دو گروه دختران و پسران تحصیل ارزش محسوب می شود فقط این عقیده در میان دختران بیشتر است.

- توصیف نمودارهای بدست آمده از سؤال سه:

الف) با توجه به نمودارها درصد بیشتری از دختران معتقد به افزایش پیشرفت تحصیلی در میان خود هستند.

ب) با توجه به نمودارها پسران بیشتر از دختران با این نظریه مخالف هستند.

نتیجه گیری:

به طور کلی با مقایسه نمودارها هر دو گروه دختران و پسران با این نظر که دختران در سالهای اخیر پیشرفت بیشتری در تحصیل داشته اند موافق هستند. ولی در این میان دختران بیشتر با این نظریه موافق هستند.

- توصیف نمودارهای بدست آمده از سؤال چهار:

الف) با توجه به نمودارها پسران بیشتر از دختران رفتن به دانشگاه را هدف محسوب می کنند.

ب) با توجه به نمودارها رفتن به دانشگاه برای دختران کمتر هدف محسوب می شود.

این فایل فقط برای مشاهده می باشد. برای خرید فایل ورد و قابل ویرایش این پروژه آماری با قیمت

فقط دو هزار تومان به سایت علمی و پژوهشی آسمان مراجعه کنید. www.asebankafinet.ir

نتیجه گیری:

بطور کلی هر دو گروه دختران و پسران رفتن به دانشگاه را هدف خود می دانند ولی در این بین رفتن به دانشگاه برای پسران بیشتر از دختران هدف محسوب می شود.

- توصیف نمودارهای به دست آمده از سؤال پنج:

الف) از میان دو گروه شمارش شده ۸۸٪ دختران دارای معدل بین ۲۰-۱۷ هستند و ۱۲٪ پسران دارای این معدل می باشند.

ب) از میان دو گروه ۱۲٪ دختران دارای معدل بین ۱۷-۱۴ می باشند و ۳۶٪ پسران دارای این معدل هستند.

ج) از میان دو گروه ۴٪ پسران معدل کمتر از ۱۱ داشتند و هیچکدام از دختران شرکت کننده دارای این معدل نبودند.

- توصیف نمودارهای بدست آمده از سؤال شش:

الف) با توجه به نمودارها درصد بیشتری از پسران ادامه تحصیل را برای به دست آوردن شغل ضروری می دانستند.

ب) با توجه به نمودارها دختران کمتر از پسران ادامه تحصیل را برای یافتن شغل ضروری می دانستند.

نتیجه گیری:

با توجه به نمودارهای دو گروه پسران و دختران هر دو گروه ادامه تحصیل را برای یافتن شغل ضروری می دانند اما از این بین پسران بیشتر نسبت به این موضوع اعتقاد دارند.

- توصیف نمودارهای بدست آمده از سؤال هفت:

الف) با توجه به نمودارها دختران بیشتر از پسران تحصیل کردن را برای زنان ضروری می دانند.

این فایل فقط برای مشاهده می باشد. برای خرید فایل ورد و قابل ویرایش این پروژه آماری با قیمت

فقط دو هزار تومان به سایت علمی و پژوهشی آسمان مراجعه کنید. www.asebankafinet.ir

ب) با توجه به نمودارها هر دو گروه تحصیل را برای مردان هم همانند زنان ضروری می دانند اما پسران بیشتر معتقد به اهمیت تحصیل مردان هستند.

نتیجه گیری:

با توجه به نمودارهای دو گروه دختران و پسران تقریباً لزوم تحصیلات مردان و زنان یکسان ارزیابی می شود و هر دو گروه معتقد به اهمیت تحصیل برای هر دو گروه می باشند.

- توصیف نمودارهای به دست آمده از سؤال هشت:

الف) با توجه به نمودارهای به دست آمده هر دو گروه دختران و پسران به یک اندازه کسب درآمد را مهم می دانستند.

ب) با توجه به نمودارهای به دست آمده هر دو گروه دختران و پسران به یک اندازه موقعیت اجتماعی را مهم می دانستند.

نتیجه گیری:

از مقایسه نمودارها هر دو گروه هر دو را با اهمیت می دانند فقط به میزان بسیار اندکی هر دو گروه موقعیت اجتماعی را مهم تر می دانستند.

- توصیف نمودارهای به دست آمده از سؤال نه:

الف) با توجه به نمودارها تعداد بیشتری از دختران به نسبت پسران حاضر هستند تنها یک سال برای قبولی در دانشگاه در کنکور شرکت کنند.

ب) با توجه به نمودارها به میزان اندکی پسران بیشتر از دختران حاضر هستند دو سال در کنکور دانشگاه شرکت کنند.

ج) با توجه به نمودارها هر دو گروه دختران و پسران به میزان مساوی حاضر هستند برای رفتن به دانشگاه سه سال در کنکور شرکت کنند.

این فایل فقط برای مشاهده می باشد. برای خرید فایل ورد و قابل ویرایش این پروژه آماری با قیمت

فقط دو هزار تومان به سایت علمی و پژوهشی آسمان مراجعه کنید. www.asebankafinet.ir

- توصیف نموداریها به دست آمده از سؤال ده:

الف) با توجه به نمودارها در شبانه روز میزان دخترانی که ۲ ساعت به مطالعه کتابهای درسی می پردازند بیشتر از پسران است.

ب) با توجه به نمودارها در شبانه روز میزان دخترانی که ۳ ساعت به مطالعه کتابهای درسی می پردازند بیشتر از پسران است.

ج) با توجه به نمودارها در شبانه روز میزان پسرانی که ۴ ساعت به مطالعه درسی می پردازند بیشتر از دختران است.

د) با توجه به نمودارها در شبانه روز میزان پسرانی که ۴ ساعت به مطالعه درسی می پردازند بیشتر از دختران است.

نتیجه گیری:

اکثریت دختران شرکت کننده در حدود ۲ تا ۳ ساعت به مطالعه کتب درسی می پردازند و اکثریت پسران در حدود ۴ ساعت یا بیشتر در شبانه روز به این امر اختصاص می دهند.

جداول فراوانی و نمودارهای مربوط به سوال یک:

۱- انگیزه شما از تحصیل چیست؟

الف) کسب درآمد ب) علاقه ج) کسب موقعیت اجتماعی

جدول فراوانی جوابهای پسران

سوال یک	فراوانی	میانگین	مجذور میانگین	فراوانی*مجذور میانگین
جواب الف	۱۲	$\frac{۱۲}{۲۵} = ۰/۴۸$	۰/۲۳	۲/۷
جواب ب	۸	$\frac{۸}{۲۵} = ۰/۳۲$	۰/۱	۰/۸
جواب ج	۵	$\frac{۵}{۲۵} = ۰/۲$	۰/۰۴	۰/۲

این فایل فقط برای مشاهده می باشد. برای خرید فایل ورد و قابل ویرایش این پروژه آماری با قیمت

فقط دو هزار تومان به سایت علمی و پژوهشی آسمان مراجعه کنید. www.asebankafinet.ir

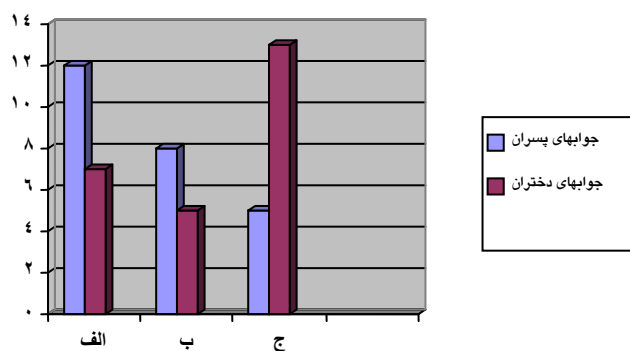
جمع	۲۵			
-----	----	--	--	--

جدول فراوانی جوابهای دختران

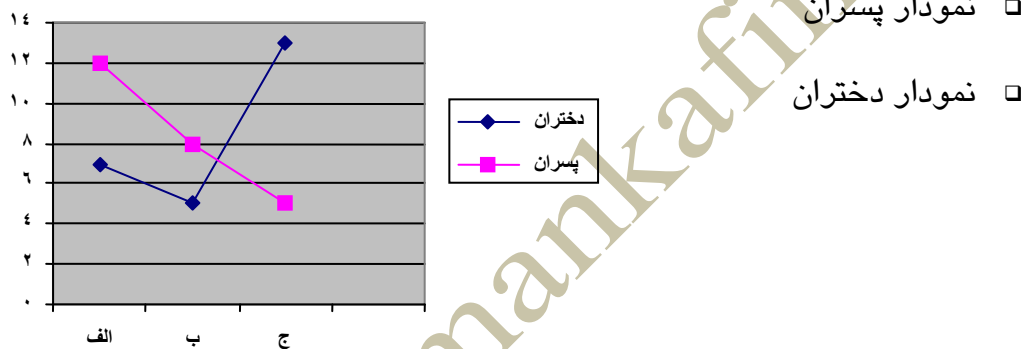
سوال یک	فراوانی	میانگین	مجذور میانگین	فراوانی*مجذور میانگین
جواب الف	۷	۰/۲۸	۰/۰۷	۰/۴۹
جواب ب	۵	۰/۲	۰/۰۴	۰/۲
جواب ج	۱۳	۰/۵۲	۰/۲۷	۳/۵۱
جمع	۲۵			

این فایل فقط برای مشاهده می باشد. برای خرید فایل ورد و قابل ویرایش این پروژه آماری با قیمت

فقط دو هزار تومان به سایت علمی و پژوهشی آسمان مراجعه کنید. www.asebankafinet.ir



رسم نمودارهای چند برفراوانی: (هر نمودار مربوط به یک سوال می باشد)



این فایل فقط برای مشاهده می باشد. برای خرید فایل ورد و قابل ویرایش این پروژه آماری با قیمت

فقط دو هزار تومان به سایت علمی و پژوهشی آسمان مراجعه کنید. www.asebankafinet.ir

جدول فراوانی مربوط به سوال ۲:

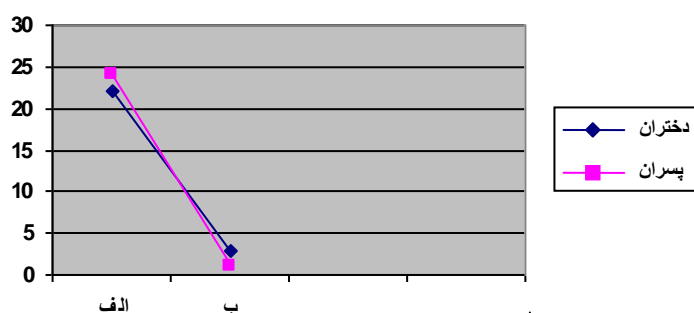
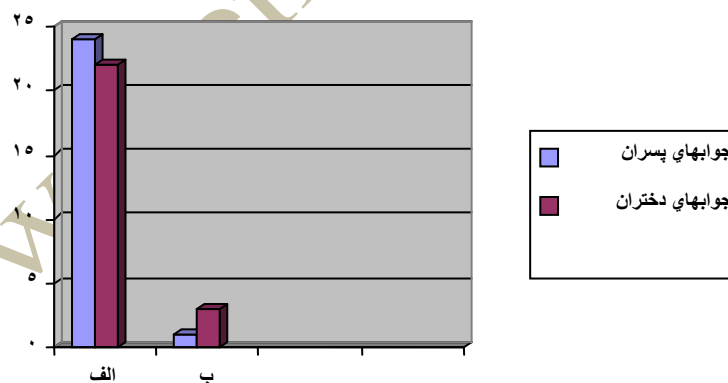
۲- آیا تحصیل کردن ارزش محسوب می شود؟ (الف) بله (ب) خیر

جدول فراوانی جوابهای پسران

سوال دو	فراوانی	میانگین	مجذور میانگین	فراوانی*مجذور میانگین
جواب الف	۲۲	۰/۸۸	۰/۷۷	۱۷/۰۳
جواب ب	۳	۰/۱۲	۰/۰۱	۰/۰۴
جمع	۲۵			

جدول فراوانی جوابهای دختران

سوال دو	فراوانی	میانگین	مجذور میانگین	فراوانی*مجذور میانگین
جواب الف	۲۴	۰/۹۶	۰/۹۲	۲۲/۱۱
جواب ب	۱	۰/۰۴	$۱/۶ \times ۱۰^{-۳}$	$۱/۶ \times ۱۰^{-۳}$
جمع	۲۵			



این فایل فقط برای مشاهده می باشد. برای خرید فایل ورد و قابل ویرایش این پروژه آماری با قیمت

فقط دو هزار تومان به سایت علمی و پژوهشی آسمان مراجعه کنید. www.asebankafinet.ir

جدول فراوانی مربوط به سوال ۳:

۳- گفته می شود که دختران در سالهای اخیر پیشرفت بیشتری در تحصیل دارند آیا شما

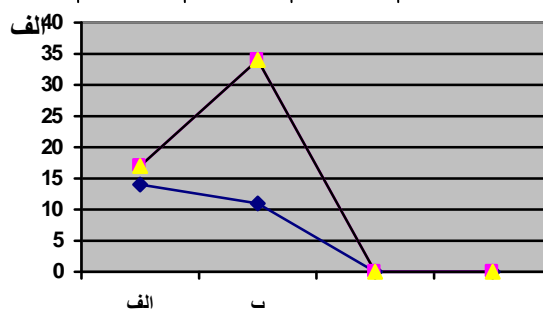
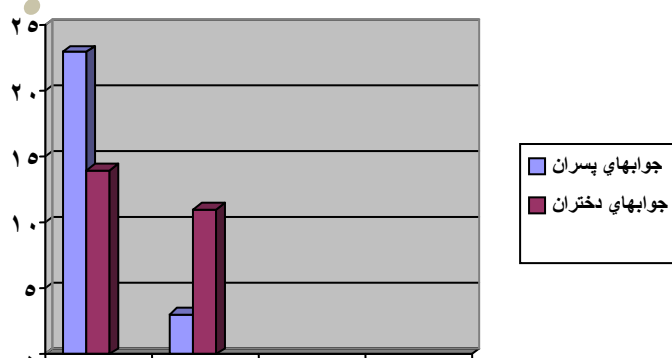
با این گفته موافقید؟ (الف) بله (ب) خیر

جدول فراوانی جوابهای پسران

سوال دو	فراوانی	میانگین	مجذور میانگین	فراوانی*مجذور میانگین
جواب الف	۱۴	۰/۵۶	۰/۳۱	۴/۳
جواب ب	۱۱	۰/۴۴	۰/۱۹	۲/۱۲
جمع	۲۵			

جدول فراوانی جوابهای دختران

سوال دو	فراوانی	میانگین	مجذور میانگین	فراوانی*مجذور میانگین
جواب الف	۲۳	۰/۹۲	۰/۸۴	۱۹/۴
جواب ب	۳	۰/۱۲	۰/۰۱	۰/۰۴
جمع	۲۵			



این فایل فقط برای مشاهده می باشد. برای خرید فایل ورد و قابل ویرایش این پروژه آماری با قیمت

فقط دو هزار تومان به سایت علمی و پژوهشی آسمان مراجعه کنید. www.asebankafinet.ir

جدول فراوانی و نمودارهای مربوط به سوال ۴:

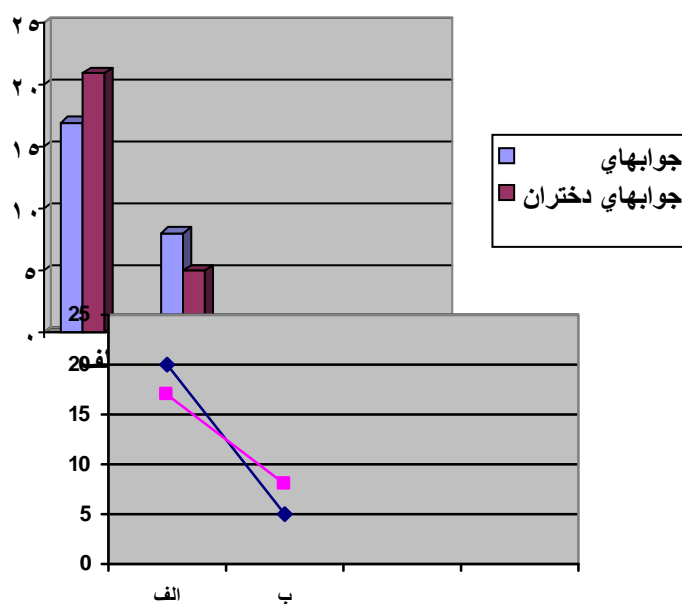
۴- آیا رفتن به دانشگاه هدف محسوب می شود؟ (الف) بله (ب) خیر

جدول فراوانی جوابهای پسران

سوال دو	فراوانی	میانگین	مجذور میانگین	فراوانی*مجذور میانگین
جواب الف	۲۰	۰/۸	۰/۶۴	۱۲/۸
جواب ب	۵	۰/۲	۰/۰۴	۰/۲
جمع	۲۵			

جدول فراوانی جوابهای دختران

سوال دو	فراوانی	میانگین	مجذور میانگین	فراوانی*مجذور میانگین
جواب الف	۱۷	۰/۶۸	۰/۴۶	۷/۸
جواب ب	۸	۰/۳۲	۰/۱	۰/۸۱
جمع	۲۵			



این فایل فقط برای مشاهده می باشد. برای خرید فایل ورد و قابل ویرایش این پروژه آماری با قیمت

فقط دو هزار تومان به سایت علمی و پژوهشی آسمان مراجعه کنید. www.asebankafinet.ir

جداول فراوانی و نمودارهای مربوط به سوال ۵:

۵- میانگین نمرات شما در کدامیک از بازه های زیر قرارداد ؟

الف) ۱۷-۲۰ (ب) ۱۴-۱۷ (ج) ۱۱-۱۴ (د) کمتر از ۱۱

جدول فراوانی جوابهای پسران

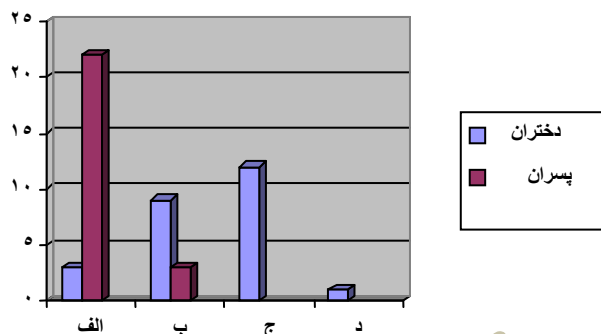
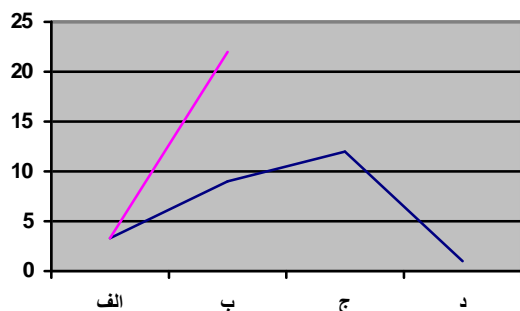
سوال دو	فراوانی	میانگین	مجذور میانگین	فراوانی*مجذور میانگین
جواب الف	۳	۰/۱۲	۰/۰۱	۰/۰۴
جواب ب	۹	۰/۳۶	۰/۱۲	۱/۱۶
جواب ج	۱۲	۰/۴۸	۰/۲۳	۲/۷
جواب د	۱	۰/۰۴	$۱/۶ \times ۱۰^{-۳}$	$۱/۶ \times ۱۰^{-۳}$
جمع	۲۵			

جدول فراوانی جوابهای دختران

سوال دو	فراوانی	میانگین	مجذور میانگین	فراوانی*مجذور میانگین
جواب الف	۲۲	۰/۸۸	۰/۷۷	۱۷/۰۳
جواب ب	۳	۰/۱۲	۰/۰۱	۰/۰۴
جواب ج				
جواب د				
جمع	۲۵			

این فایل فقط برای مشاهده می باشد. برای خرید فایل ورد و قابل ویرایش این پروژه آماری با قیمت

فقط دو هزار تومان به سایت علمی و پژوهشی آسمان مراجعه کنید. www.asebankafinet.ir



جداول فراوانی و نمودارهای مربوط به سوال شش ۶:

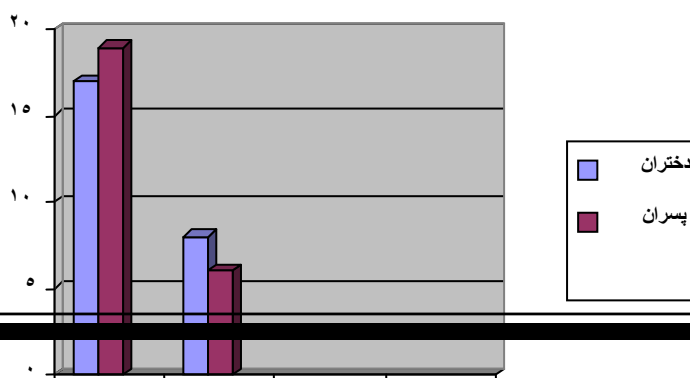
(۶) به نظر شما آیا ادامه تحصیل برای بدست آوردن شغل ضروری است؟ الف) بله ب) خیر

جدول فراوانی جوابهای پسران

سوال دو	فراوانی	میانگین	مجذور میانگین	فراوانی*مجذور میانگین
جواب الف	۱۹	۰/۷۶	۰/۵۷	۱۰/۹
جواب ب	۶	۰/۲۴	۰/۰۵	۰/۳۴
جمع	۲۵			

جدول فراوانی جوابهای دختران

سوال دو	فراوانی	میانگین	مجذور میانگین	فراوانی*مجذور میانگین
جواب الف	۱۷	۰/۶۸	۰/۴۶	۷/۸
جواب ب	۸	۰/۳۲	۰/۱	۰/۸
جمع	۲۵			



این فایل فقط برای مشاهده می باشد. برای خرید فایل ورد و قابل ویرایش این پروژه آماری با قیمت

فقط دو هزار تومان به سایت علمی و پژوهشی آسمان مراجعه کنید. www.asebankafinet.ir

جداول فراوانی و نمودارهای مربوط به سوال ۷:

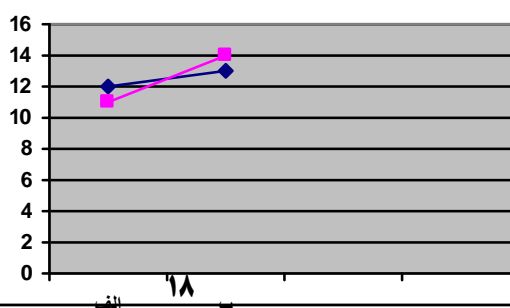
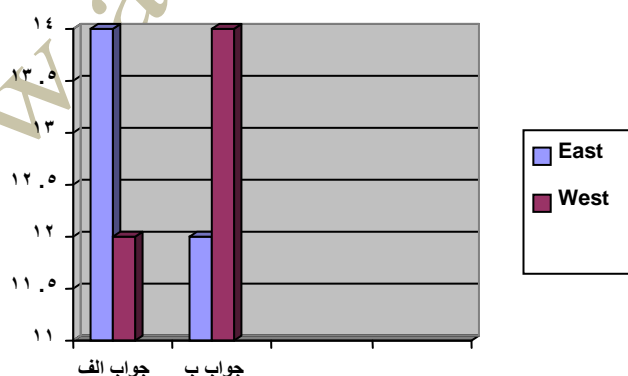
(۷) به نظر شما ادامه تحصیل برای کدام گروه مهمتر است؟ الف) زنان ب) مردان

جدول فراوانی جوابهای پسران

سوال دو	فراوانی	میانگین	مجذور میانگین	فراوانی*مجذور میانگین
جواب الف	۱۲	۰/۴۸	۰/۲۳	۲/۷
جواب ب	۱۳	۰/۵۲	۰/۲۷	۳/۵
جمع	۲۵			

جدول فراوانی جوابهای دختران

سوال دو	فراوانی	میانگین	مجذور میانگین	فراوانی*مجذور میانگین
جواب الف	۱۴	۰/۵۶	۰/۳۱	۴/۳۴
جواب ب	۱۱	۰/۴۴	۰/۱۹	۲/۱۲
جمع	۲۵			



این فایل فقط برای مشاهده می باشد. برای خرید فایل ورد و قابل ویرایش این پروژه آماری با قیمت

فقط دو هزار تومان به سایت علمی و پژوهشی آسمان مراجعه کنید. www.asebankafinet.ir

جداول فراوانی و نمودارهای سوال هشت ۸:

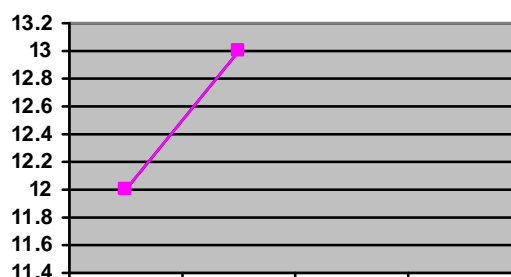
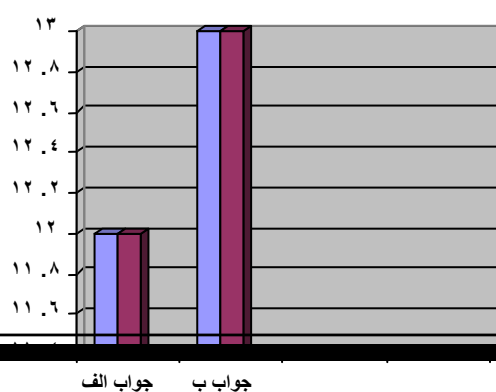
۸) به نظر شما کدامیک مهمتر است؟ الف) کسب درآمد ب) موقعیت اجتماعی

جدول فراوانی جوابهای پسران

سوال دو	فراوانی	میانگین	مجذور میانگین	فراوانی*مجذور میانگین
جواب الف	۱۲	۰/۴۸	۰/۲۳	۲/۷۶
جواب ب	۱۳	۰/۵۲	۰/۲۷	۳/۵۱
جمع	۲۵			

جدول فراوانی جوابهای دختران

سوال دو	فراوانی	میانگین	مجذور میانگین	فراوانی*مجذور میانگین
جواب الف	۱۲	۰/۴۸	۰/۲۳	۲/۷۶
جواب ب	۱۳	۰/۵۲	۰/۲۷	۳/۵۱
جمع	۲۵			



این فایل فقط برای مشاهده می باشد. برای خرید فایل ورد و قابل ویرایش این پروژه آماری با قیمت

فقط دو هزار تومان به سایت علمی و پژوهشی آسمان مراجعه کنید. www.asebankafinet.ir

جدول فراوانی نمودارهای سوال ۹:

۹) چند سال حاضرید در کنکور شرکت کنید تا در دانشگاه قبول شوید؟

الف) یک سال ب) دو سال ج) سه سال د) بیشتر

جدول فراوانی جوابهای پسران

سوال دو	فراوانی	میانگین	مجذور میانگین	فراوانی*مجذور میانگین
جواب الف	۷	۰/۲۸	۰/۰۷	۰/۵۴
جواب ب	۸	۰/۳۲	۰/۱	۰/۸
جواب ج	۲	۰/۰۸	$۶/۴ \times ۱۰^{-۳}$	۰/۰۱
جواب د	۸	۰/۲۸	۰/۰۷	۰/۵۴
جمع	۲۵			

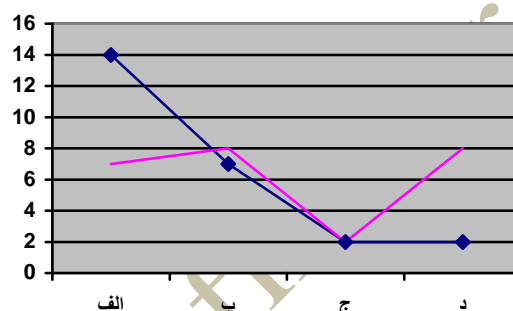
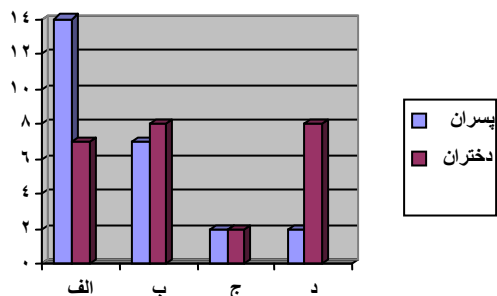
جدول فراوانی جوابهای دختران

سوال دو	فراوانی	میانگین	مجذور میانگین	فراوانی*مجذور میانگین
جواب الف	۱۴	۰/۵۶	۰/۳۱	۴/۳
جواب ب	۷	۰/۲۸	۰/۰۷	۰/۵۴

این فایل فقط برای مشاهده می باشد. برای خرید فایل ورد و قابل ویرایش این پروژه آماری با قیمت

فقط دو هزار تومان به سایت علمی و پژوهشی آسمان مراجعه کنید. www.asebankafinet.ir

جواب ج	۲	۰/۰۸	$۶/۴ \times ۱۰^{-۳}$	۰/۰۱
جواب د	۲	۰/۰۸	$۶/۴ \times ۱۰^{-۳}$	۰/۰۱
جمع	۲۵			



جدول فراوانی و نمودارهای سوال ده ۱۰:

۱۰) در شبانه روز چند ساعت از اوقات خود را برای مطالعه کتابهای درسی اختصاص میدهید؟

الف) ۲ ساعت ب) ۳ ساعت ج) ۴ ساعت د) بیشتر

جدول فراوانی جوابهای پسران

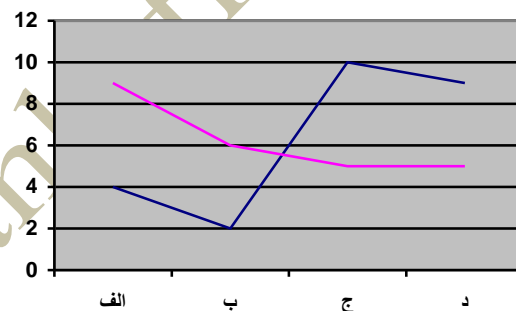
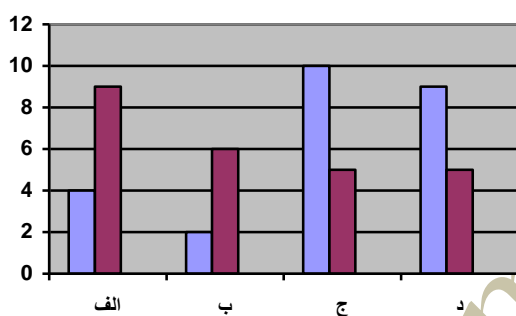
سوال دو	فراوانی	میانگین	مجذور میانگین	فردز اوانی*مجذور میانگین
جواب الف	۴	۰/۱۶	۰/۲۵	۰/۱
جواب ب	۲	۰/۰۸	$۶/۴ \times ۱۰^{-۳}$	۰/۰۱
جواب ج	۱۰	۰/۴	۰/۱۶	۱/۶
جواب د	۹	۰/۳۶	۰/۱۲	۱/۱۶
جمع	۲۵			

این فایل فقط برای مشاهده می باشد. برای خرید فایل ورد و قابل ویرایش این پروژه آماری با قیمت

فقط دو هزار تومان به سایت علمی و پژوهشی آسمان مراجعه کنید. www.asebankafinet.ir

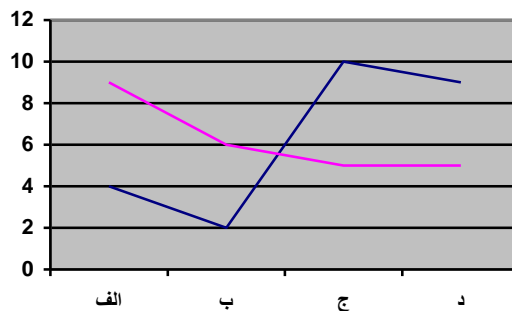
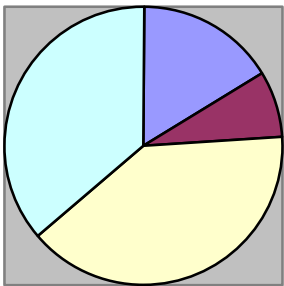
جدول فراوانی جوابهای دختران

سوال دو	فراوانی	میانگین	مجذور میانگین	فراوانی*مجذور میانگین
جواب الف	۹	۰/۳۶	۰/۱۲	۱/۱۶
جواب ب	۶	۰/۲۴	۰/۰۵	۰/۳۴
جواب ج	۵	۰/۲	۰/۰۴	۰/۲
جواب د	۵	۰/۲	۰/۰۴	۰/۲
جمع	۲۵			



این فایل فقط برای مشاهده می باشد . برای خرید فایل ورد و قابل ویرایش این پروژه آماری با قیمت

فقط دو هزار تومان به سایت علمی و پژوهشی آسمان مراجعه کنید . www.asebankafinet.ir



منبع: اینترنت

www.asebankafinet.ir