

این فایل فقط برای مشاهده می باشد . برای خرید فایل ورد و قابل ویرایش این طرح درس با

قیمت فقط دو هزار تومان به سایت علمی و پژوهشی آسمان مراجعه کنید

www.asebankafinet.ir.

مشخصات	
کتاب : ریاضی	پایه: اول ابتدایی
عنوان: صفحه ۱۵-۱۶	آموزگار:
زمان: ۴۵	
هدف کلی	آشنایی با مهارت های لازم برای رفتن به مدرسه. آشنایی با مصداق های قوانین راهنمایی و رانندگی. ادامه بیان عدد هر دسته بدون شمارش. درک مفهوم اضافه کردن دو شی.
اهداف جزئی	آموختن مهارت منتظر ماندن برای اتوبوس مدرسه. آشنایی با مهارت سوار شدن و نشستن در اتوبوس. آشنایی با مهارت پیاده شدن از اتوبوس. آشنایی با آداب عبور از خیابان. آشنایی با قوانین مثل عبور از خیابان، حرکت ماشین ها از سمت راست خیابان و توقف قبل از خط عابر پیاده. توانایی بیان تعداد اشیا تا ۵ بدون شمارش. ارتقای توانایی استدلال کردن برای توجیه پیدا کردن ۲ عدد بعد با استفاده از واژه اضافه کردن. تشویق دانش آموزان به یادگیری ریاضیات برای تشخیص و شناخت بهتر مسائل روزمره. تشویق دانش آموزان به دلیل آوردن برای حرف هایشان.
اهداف رفتاری	حیطه شناختی: آداب نشستن در اتوبوس را نام ببرد.(دانشی)

این فایل فقط برای مشاهده می باشد . برای خرید فایل ورد و قابل ویرایش این طرح درس با

قیمت فقط دو هزار تومان به سایت علمی و پژوهشی آسمان مراجعه کنید

www.asebankafinet.ir.

	<p>حیطه مهارتی:</p> <p>هنگام سوار شدن به اتوبوس نوبت را رعایت می کند.</p> <p>هنگام عبور از خیابان از خط عابر پیاده می گذرد.</p> <p>هنگام پیاده شدن از اتوبوس عجله نمی کند و دوستانش را هل نمی دهد.</p> <p>تعداد اشکال حداکثر تا ۵ را بدون شمارش می شمارد.</p> <p>کدام ماشین ها ایستاده اند و کدام در حال حرکت اند. برای حرف خود دلیل بیاورید.</p> <p>حیطه نگرشی:</p> <p>به یادگیری ریاضی برای شناخت بهتر مسائل روزانه علاقه نشان دهند.</p> <p>به دلیل آوردن برای حرف هایشان برای اینکه مردم با احتمال بیشتری آن ها را باور کنند علاقه نشان دهند.</p>	
مواد و وسایل آموزشی	کتاب، تخته، کارت اشکال، لوبیا، دکمه.	
روش تدریس	تلفیقی (پرسش و پاسخ، نمایشی و ...)	
رفتار ورودی	انتظار می رود که دانش آموز: مفاهیم چپ، راست، بالا، پایین، جلو، پشت، اول تا پنجم، اشکال هندسی، وسط، کنار را بداند. بتواند تعداد اشکال تا ۵ را بشمارد. بتواند یکی قبل و یکی بعد از اعداد کمتر از ۵ یا ۵ را بگوید. مفهوم ردیف و ستون را بداند.	
ارشیابی آغازین	کدام ماشین به سمت راست و کدام به سمت چپ می رود؟ چه شکل هایی روی بدنه اتوبوس می بینی؟	

این فایل فقط برای مشاهده می باشد . برای خرید فایل ورد و قابل ویرایش این طرح درس با

قیمت فقط دو هزار تومان به سایت علمی و پژوهشی آسمان مراجعه کنید

www.asebankafinet.ir.

	<p>تعداد پنجره های هر ردیف اتوبوس بشمارد.</p> <p>یک نفر در حال سوار شدن است اگر دانش آموز بعدی هم سوار شود چند نفر می شوند؟</p>	
۶ دقیقه	<p>ص ۱۵</p> <p>سلام بچه ها. حالتون خوبه؟...</p> <p>ایجاد انگیزه: برای اینکه ببینم کی برای درس آماده تره یک بازی انجام می دهیم به اینصورت که هرکس درست جواب داد باید با یکبار دست زدن او را تشویق کنید و اگر جواب او اشتباه بود نفر بعدی باید جواب را آرام به او بگوید و با دو بار دست زدن دو نفر آن ها را تشویق کنید. سوالاتی از قبیل کتاب در کجای میز قرار دارد؟ تعداد مداد رنگی های که دست من هست چندتاست؟ تراشت چه شکلیه؟ عددی که من می گویم را با انگشتان نشان بده و</p> <p>خب بچه ها حالا کتاب ها را باز کنید و این صفحه (۱۵) را باز کنید و بگویید توی این صفحه چه می بینید؟ بعد از پاسخ دانش آموزان با سوال پرسیدن از آن ها به مفاهیم مورد نظر اشاره می کنم.</p> <p>چندتا گنجشک در شکل می بینید؟ در کجای درخت هستند؟ چندتا اتوبوس می بینید؟ چندتا سواری؟ چند تا پسر می بینید؟ چندتا دختر؟ چیکار می کنن؟ کدام ماشین به سمت راست می رود و کدام به سمت چپ؟ هر ردیف ماشین چند پنجره وجود داره؟ روی ماشین چندتا سه گوش و چندتا چهارگوش وجود داره؟ چرخ های ماشین چه شکلی هستن؟</p> <p>۱۰</p> <p>بچه ها این پسرهایی که دارن سوار اتوبوس میخوان کجا برن؟...از کجا متوجه شدید می خوان برن مدرسه؟ شما وقتی می خواید سوار اتوبوس بشید چیکار می کنین؟... بچه ها ببینید که آن ها به ترتیب دارن سوار می شن، عجله نمی کنند و همدیگر را هل نمی دهند، اجازه می دهند تا ماشین کاملا در کنار خیابان بایستد بعد سوار می شوند و وقتی سوار می شوند به راننده سلام می کنند.</p>	ارائه درس جدید

بچه ها اون یه نفر را می بینید که داره از وسط خیابون به سمت اتوبوس می آید؟ ...
بینید اون از روی خط عابر پیاده عبور می کند تا ماشین ها با او برخورد نکنند. بچه ها
شما وقتی توی ماشین می نشینید تا بیایید مدرسه یا میرین مسافرت باید چیکار کنید
تا بقیه اذیت نشوند؟..... باید زیاد سر و صدا نکنید تا حواس راننده پرت نشود، دست یا
سر خود را از پنجره ماشین بیرون نیاوریم، چطوری پیاده؟ موقع نشستن چه چیزی را
رعایت کنیم؟ وقتی میخوایم از خیابان عبور کنیم. وقتی می خواهید پیاده شوید چیکار
می کنید؟.... بچه ها به الگوی خط عابر پیاده نگاه کنید یک خط سیاه یک خط سفید...
حالا شما الگوهای دیگه ای که در شکل می بینید را نشون بدید.

ص ۱۶

خب بچه ها حالا به شکل هایی که روی تخته می چسبانم دقت کنید و بدون اینکه
آن ها را بشمارید بگویید چندتا سه گوش داریم؟ (۳ تا) حالا اگه دوتا سه گوش دیگه به
آن ها اضافه کنم چندتا میشن؟





بعد به هر کدام از یک تا ۵ عدد لوبیا می دهم و می خواهم بدون شمارش تعداد آن ها
را بگویند. سپس دو لوبیای دیگر به آن ها اضافه کنند و تعداد مجموع را بیان کنند و
هر بار واژه اضافه کردن را بیان کنند. مثلا اول سه تا لوبیا داشتم دوتا لوبیا اضافه کردم
حالا ۵ تا لوبیا دارم) بعد از اینکه مطمئن شدم همه این مطلب را متوجه شدند از آن ها
می خواهم که به صفحه اول کتاب برگردند و تعداد گنجشک ها را بگویند و اگر دو
گنجشک دیگر به آن ها اضافه کنیم چند گنجشک می شوند؟ تعداد دانش آموزانی که
در حال سوار شدن هستن را بگویند و اگر دو دانش آموز دیگر هم سوار شوند چند نفر
می شوند؟

سپس ص ۱۶ کتاب را باز کنند و تمرین کتاب را حل کنند به این صورت که اول
تعداد هر شکل را بشمارند و بعد دو شکل دیگه مثل اون بکشند و آن ها را بشمارند و
بگویند حالا چند شکل داریم. لازم نیست دانش آموزان دقیقا عین همان شکل ها را
بکشند و هدف اضافه کردن دو عدد است و شمارش مجموع آن هاست. در صورت تمایل
می توانند با شابلن کوچک و تمرین در صفحه شطرنجی در دقیق کشیدن شکل ها
مهارت پیدا کنند.

این فایل فقط برای مشاهده می باشد . برای خرید فایل ورد و قابل ویرایش این طرح درس با

قیمت فقط دو هزار تومان به سایت علمی و پژوهشی آسمان مراجعه کنید

www.asebankafinet.ir.

۳	<p>بچه ها گفتیم وقتی می خواهیم وارد اتوبوس بشویم باید چه قوانینی را رعایت کنیم؟</p> <p>دیگه چی یاد گرفتیم از این درس؟</p> <p>بچه ها ما یاد گرفتیم که وقتی می خوایم از خیابان عبور کنیم یا سوار ماشین شویم قانون را رعایت کنیم و با کتاب ریاضی چیزهای زیادی مثل اضافه کردن دو عدد را یاد بگیریم تا بتونیم خیلی راحت تعداد چیزها را بگوییم.</p>	جمع بندی
۳	<p>دو تا دکمه به آن ها می دهم و می گویم اگه دوتا دکمه دیگه اضافه کنیم چندتا می شن؟</p> <p>تعداد کتاب های روی میز را بشمارد و دو کتاب به آن ها اضافه کند و بگوید چند کتاب دارد؟</p>	ارزشیابی پایانی
۲	<p>به هر دسته دو شکل اضافه کن و بگو چندتا می شود.</p> <div data-bbox="279 1160 639 1435"></div> <div data-bbox="758 1160 1118 1435"></div> <p>اگر به شکل های زیر دوتا اضافه شود، بگو چندتا می شود؟ (از دایره ها رنگ کن)</p> <div data-bbox="320 1787 681 1989"></div> <div data-bbox="853 1765 1214 1966"></div>	تکلیف

این فایل فقط برای مشاهده می باشد . برای خرید فایل ورد و قابل ویرایش این طرح درس با
قیمت فقط دو هزار تومان به سایت علمی و پژوهشی آسمان مراجعه کنید

www.asebankafinet.ir.

	○ ○ ○ ○ ○	○ ○ ○ ○ ○	
--	-----------	-----------	--

www.asebankafinet.ir